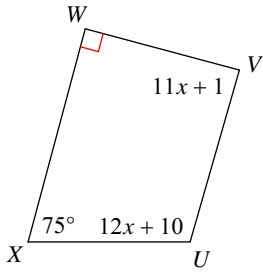


Assignment

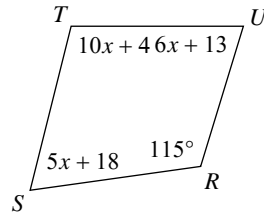
Find the measure of each angle indicated.

1) $m\angle V$



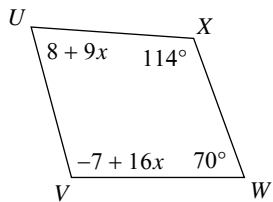
- A) 69°
- B) 89°
- C) 30°
- D) 80°

2) $m\angle S$



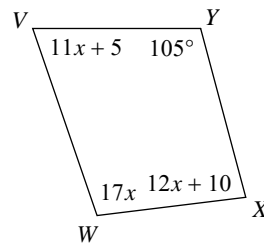
- A) 55°
- B) 90°
- C) 70°
- D) 68°

3) $m\angle U$



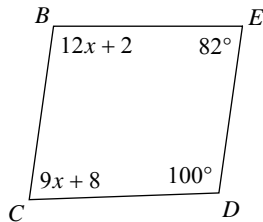
- A) 68°
- B) 51°
- C) 71°
- D) 90°

4) $m\angle V$



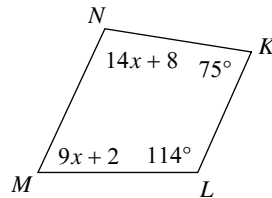
- A) 53°
- B) 71°
- C) 98°
- D) 92°

5) $m\angle B$



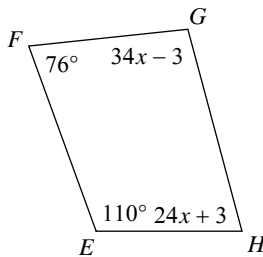
- A) 86°
- B) 98°
- C) 75°
- D) 116°

6) $m\angle M$



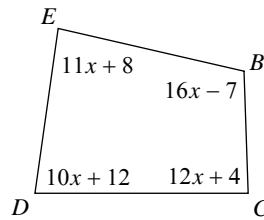
- A) 60°
- B) 80°
- C) 65°
- D) 90°

7) $m\angle H$



- A) 30°
- B) 100°
- C) 75°
- D) 85°

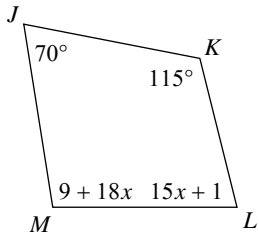
8) $m\angle B$



- A) 45°
- B) 106°
- C) 105°
- D) 92°

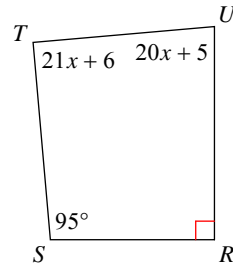


9) $m\angle M$



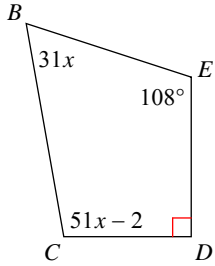
- A) 90° B) 99°
C) 80° D) 30°

10) $m\angle T$



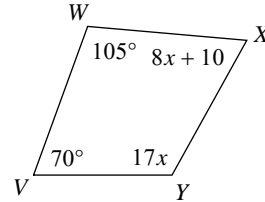
- A) 58° B) 48°
C) 90° D) 120°

11) $m\angle C$



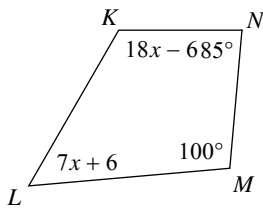
- A) 90° B) 108°
C) 38° D) 100°

12) $m\angle Y$



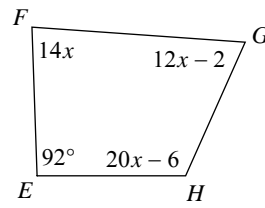
- A) 120° B) 119°
C) 108° D) 90°

13) $m\angle K$



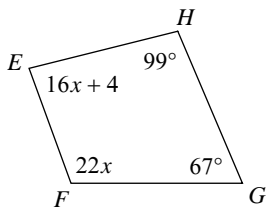
- A) 96° B) 60°
C) 50° D) 120°

14) $m\angle H$



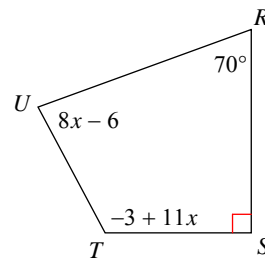
- A) 55° B) 56°
C) 90° D) 114°

15) $m\angle E$



- A) 84° B) 33°
C) 100° D) 60°

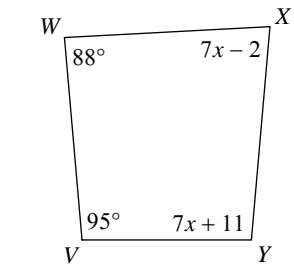
16) $m\angle T$



- A) 95° B) 55°
C) 75° D) 118°

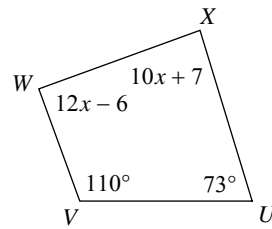


17) $m\angle Y$



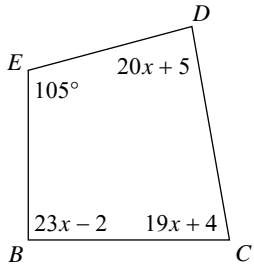
- A) 60° B) 95°
C) 70° D) 30°

18) $m\angle W$



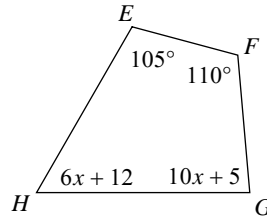
- A) 110° B) 90°
C) 102° D) 89°

19) $m\angle D$



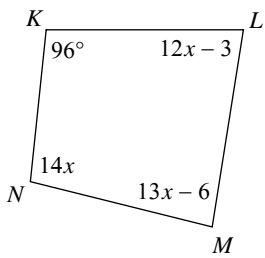
- A) 60° B) 85°
C) 55° D) 95°

20) $m\angle H$



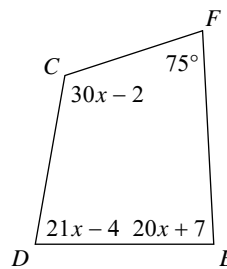
- A) 65° B) 60°
C) 100° D) 35°

21) $m\angle M$



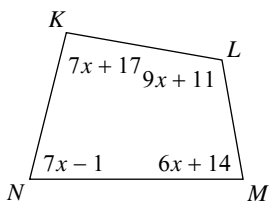
- A) 98° B) 112°
C) 110° D) 85°

22) $m\angle E$



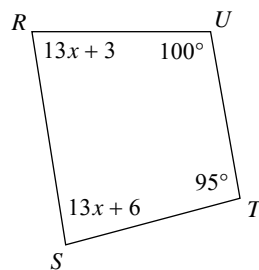
- A) 87° B) 112°
C) 102° D) 91°

23) $m\angle L$



- A) 38° B) 110°
C) 115° D) 100°

24) $m\angle S$



- A) 84° B) 70°
C) 114° D) 105°



Answers to Assignment (ID: 1)

- | | | | |
|-------|-------|-------|-------|
| 1) B | 2) D | 3) C | 4) B |
| 5) B | 6) C | 7) C | 8) C |
| 9) B | 10) C | 11) D | 12) B |
| 13) D | 14) D | 15) A | 16) D |
| 17) B | 18) B | 19) B | 20) B |
| 21) D | 22) A | 23) B | 24) A |



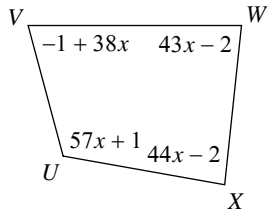
Assignment

Name _____

Date _____ Period _____

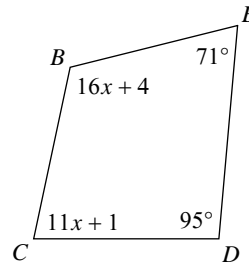
Find the measure of each angle indicated.

1) $m\angle U$



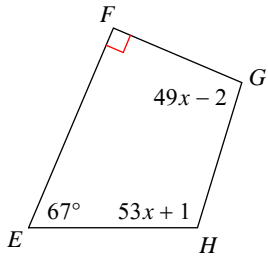
- A) 66°
- B) 83°
- C) 65°
- D) 115°

2) $m\angle B$



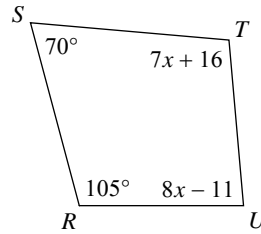
- A) 84°
- B) 116°
- C) 90°
- D) 55°

3) $m\angle G$



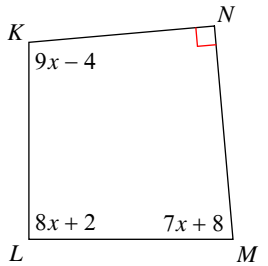
- A) 112°
- B) 96°
- C) 95°
- D) 110°

4) $m\angle U$



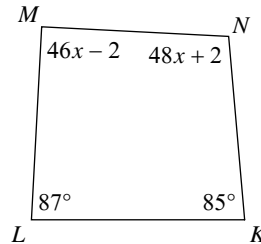
- A) 56°
- B) 95°
- C) 65°
- D) 85°

5) $m\angle M$



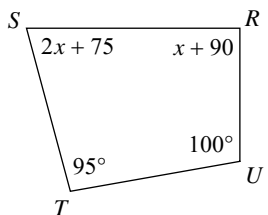
- A) 85°
- B) 95°
- C) 50°
- D) 45°

6) $m\angle N$



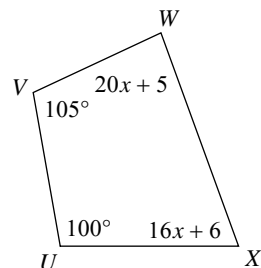
- A) 60°
- B) 116°
- C) 58°
- D) 98°

7) $m\angle S$



- A) 120°
- B) 108°
- C) 75°
- D) 52°

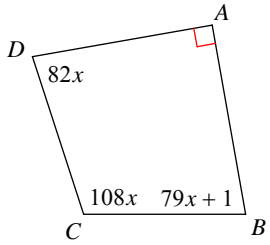
8) $m\angle X$



- A) 88°
- B) 60°
- C) 70°
- D) 33°

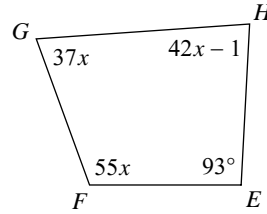


9) $m\angle D$



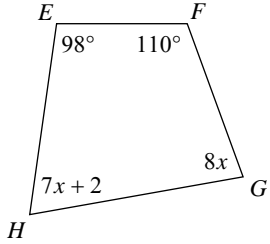
- A) 90°
- B) 82°
- C) 95°
- D) 36°

10) $m\angle H$



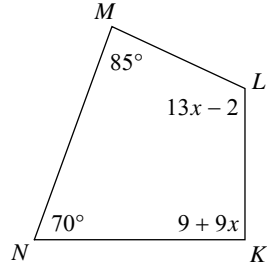
- A) 70°
- B) 64°
- C) 110°
- D) 83°

11) $m\angle G$



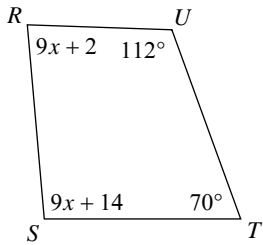
- A) 30°
- B) 80°
- C) 40°
- D) 105°

12) $m\angle L$



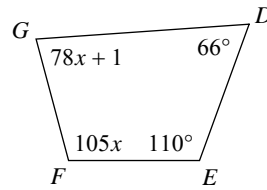
- A) 68°
- B) 62°
- C) 35°
- D) 115°

13) $m\angle R$



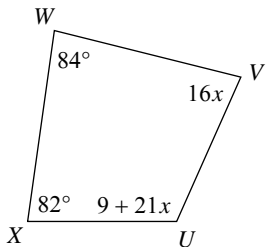
- A) 30°
- B) 65°
- C) 83°
- D) 36°

14) $m\angle G$



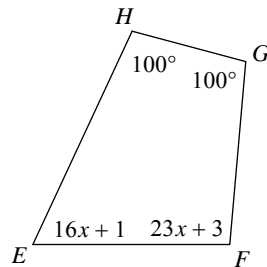
- A) 79°
- B) 75°
- C) 85°
- D) 93°

15) $m\angle U$



- A) 80°
- B) 98°
- C) 82°
- D) 114°

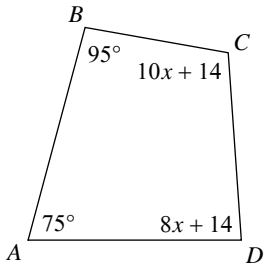
16) $m\angle F$



- A) 40°
- B) 64°
- C) 95°
- D) 95°

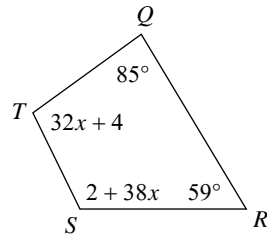


17) $m\angle D$



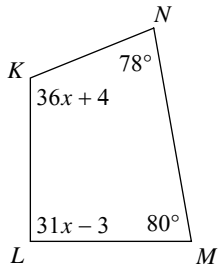
- A) 95° B) 105°
C) 86° D) 65°

18) $m\angle T$



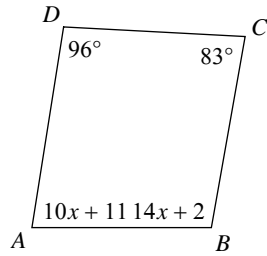
- A) 100° B) 45°
C) 85° D) 68°

19) $m\angle L$



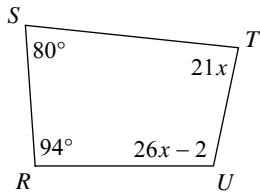
- A) 90° B) 50°
C) 90° D) 75°

20) $m\angle A$



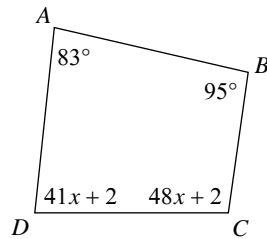
- A) 100° B) 81°
C) 118° D) 45°

21) $m\angle T$



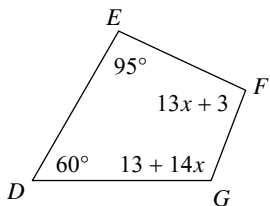
- A) 50° B) 105°
C) 84° D) 98°

22) $m\angle D$



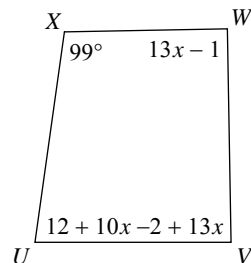
- A) 84° B) 50°
C) 35° D) 30°

23) $m\angle F$



- A) 90° B) 35°
C) 94° D) 115°

24) $m\angle U$



- A) 50° B) 120°
C) 71° D) 82°



Answers to Assignment (ID: 2)

1) D
5) A
9) B
13) C
17) C
21) C

2) B
6) D
10) D
14) A
18) A
22) A

3) B
7) C
11) B
15) D
19) A
23) C

4) D
8) C
12) D
16) C
20) B
24) D



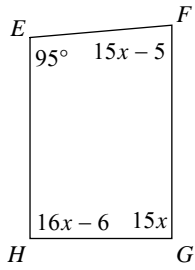
Assignment

Name _____

Date _____ Period _____

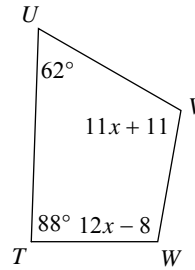
Find the measure of each angle indicated.

1) $m\angle G$



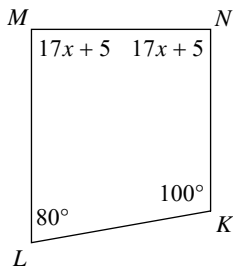
- A) 65°
- B) 72°
- C) 90°
- D) 40°

2) $m\angle W$



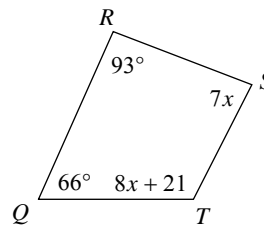
- A) 45°
- B) 100°
- C) 50°
- D) 110°

3) $m\angle M$



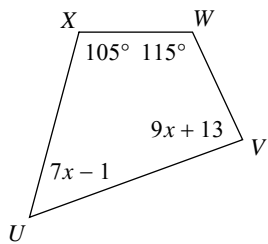
- A) 80°
- B) 32°
- C) 120°
- D) 90°

4) $m\angle T$



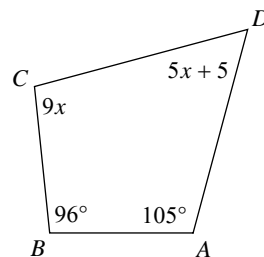
- A) 117°
- B) 95°
- C) 115°
- D) 100°

5) $m\angle V$



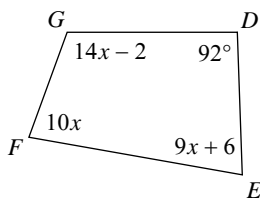
- A) 85°
- B) 35°
- C) 45°
- D) 110°

6) $m\angle C$



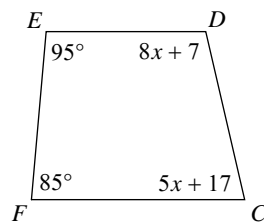
- A) 48°
- B) 99°
- C) 82°
- D) 110°

7) $m\angle E$



- A) 90°
- B) 75°
- C) 78°
- D) 66°

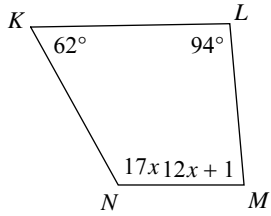
8) $m\angle C$



- A) 54°
- B) 77°
- C) 120°
- D) 40°

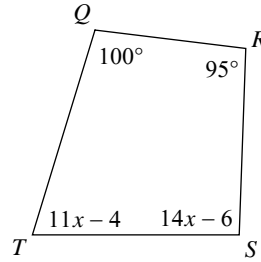


9) $m\angle M$



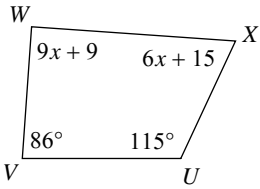
- A) 100° B) 80°
C) 34° D) 85°

10) $m\angle T$



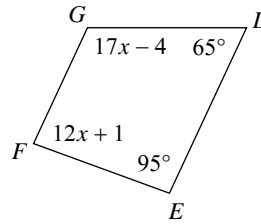
- A) 52° B) 44°
C) 73° D) 110°

11) $m\angle W$



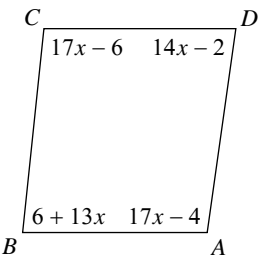
- A) 90° B) 45°
C) 51° D) 88°

12) $m\angle F$



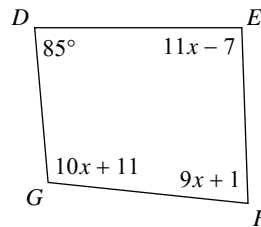
- A) 60° B) 105°
C) 72° D) 85°

13) $m\angle B$



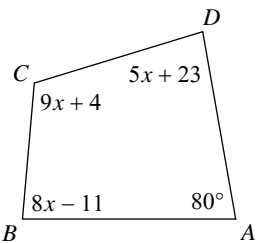
- A) 84° B) 50°
C) 36° D) 74°

14) $m\angle F$



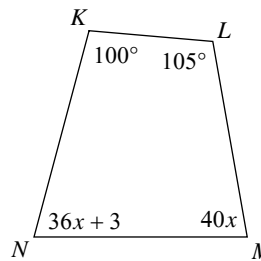
- A) 70° B) 82°
C) 50° D) 115°

15) $m\angle C$



- A) 105° B) 96°
C) 112° D) 36°

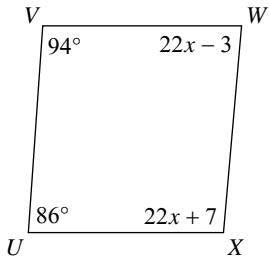
16) $m\angle N$



- A) 35° B) 75°
C) 45° D) 75°

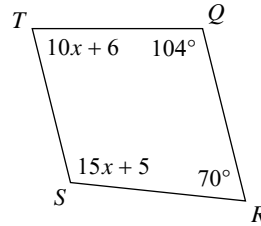


17) $m\angle W$



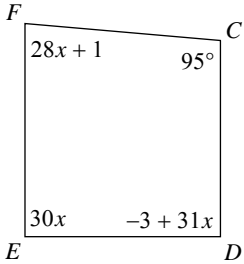
- A) 65° B) 85°
C) 100° D) 90°

18) $m\angle S$



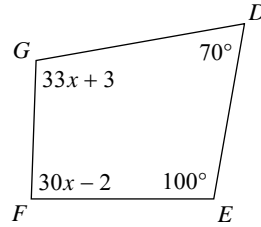
- A) 90° B) 110°
C) 44° D) 45°

19) $m\angle E$



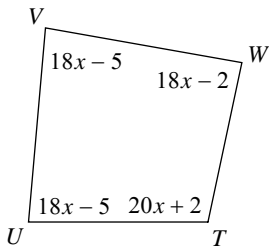
- A) 90° B) 108°
C) 120° D) 106°

20) $m\angle G$



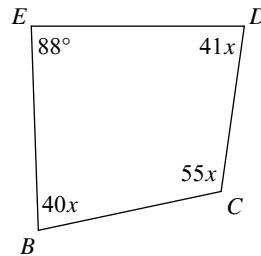
- A) 85° B) 60°
C) 102° D) 120°

21) $m\angle W$



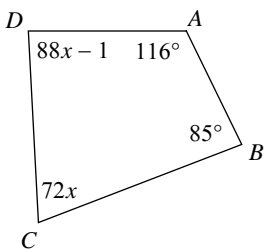
- A) 35° B) 118°
C) 34° D) 88°

22) $m\angle D$



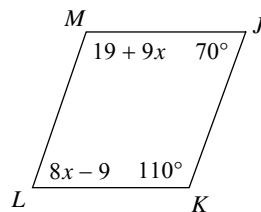
- A) 82° B) 55°
C) 65° D) 77°

23) $m\angle D$



- A) 87° B) 46°
C) 90° D) 120°

24) $m\angle M$



- A) 85° B) 109°
C) 40° D) 118°



Answers to Assignment (ID: 3)

- 1) C
- 5) A
- 9) D
- 13) A
- 17) B
- 21) D

- 2) B
- 6) B
- 10) C
- 14) B
- 18) B
- 22) A

- 3) D
- 7) C
- 11) A
- 15) C
- 19) A
- 23) A

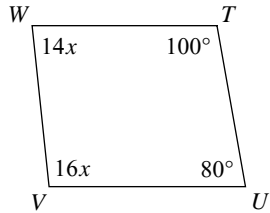
- 4) A
- 8) B
- 12) D
- 16) D
- 20) C
- 24) B



Assignment

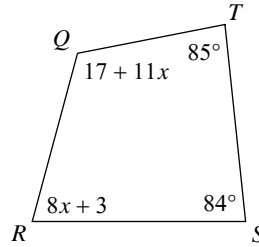
Find the measure of each angle indicated.

1) $m\angle V$



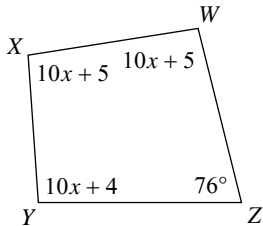
- A) 96°
- B) 42°
- C) 105°
- D) 92°

2) $m\angle Q$



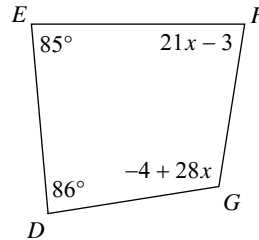
- A) 116°
- B) 115°
- C) 34°
- D) 80°

3) $m\angle Y$



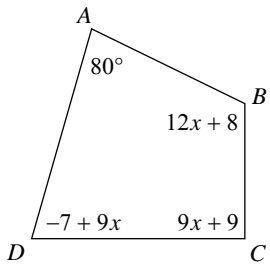
- A) 80°
- B) 94°
- C) 87°
- D) 31°

4) $m\angle G$



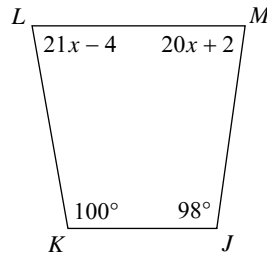
- A) 108°
- B) 35°
- C) 76°
- D) 70°

5) $m\angle B$



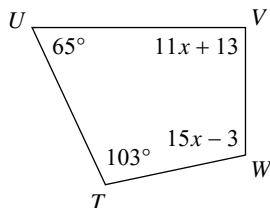
- A) 67°
- B) 55°
- C) 116°
- D) 39°

6) $m\angle M$



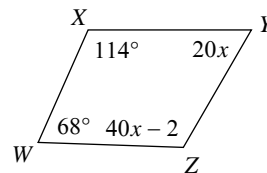
- A) 70°
- B) 44°
- C) 34°
- D) 82°

7) $m\angle W$



- A) 45°
- B) 35°
- C) 102°
- D) 43°

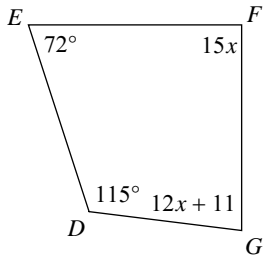
8) $m\angle Z$



- A) 56°
- B) 60°
- C) 37°
- D) 118°

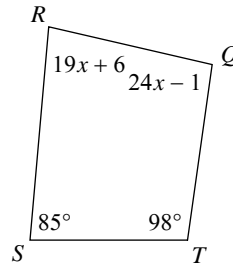


9) $m\angle G$



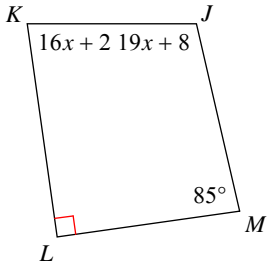
- A) 83° B) 65°
 C) 106° D) 85°

10) $m\angle R$



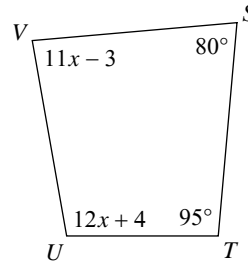
- A) 44° B) 82°
 C) 90° D) 86°

11) $m\angle K$



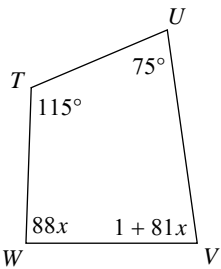
- A) 120° B) 95°
 C) 82° D) 89°

12) $m\angle U$



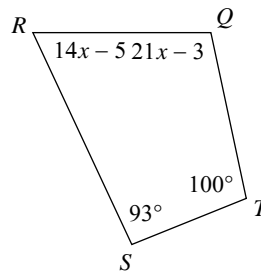
- A) 114° B) 100°
 C) 46° D) 90°

13) $m\angle V$



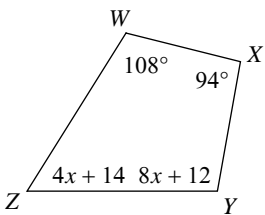
- A) 120° B) 82°
 C) 84° D) 114°

14) $m\angle R$



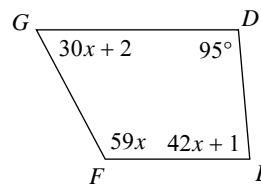
- A) 55° B) 107°
 C) 47° D) 65°

15) $m\angle Z$



- A) 58° B) 110°
 C) 85° D) 48°

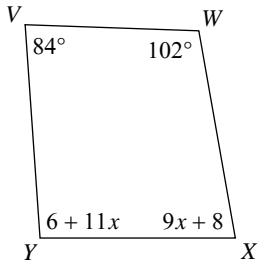
16) $m\angle F$



- A) 115° B) 118°
 C) 119° D) 66°

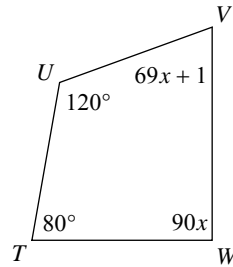


17) $m\angle X$



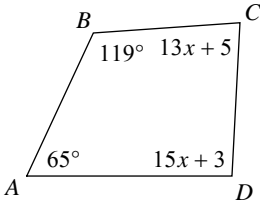
- A) 110° B) 80°
C) 120° D) 88°

18) $m\angle W$



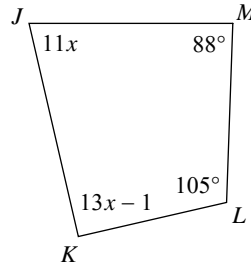
- A) 50° B) 90°
C) 65° D) 85°

19) $m\angle C$



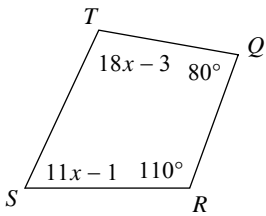
- A) 65° B) 52°
C) 83° D) 70°

20) $m\angle K$



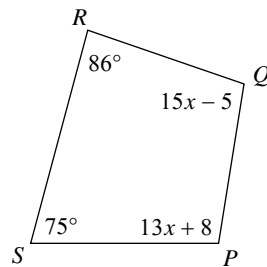
- A) 36° B) 38°
C) 100° D) 90°

21) $m\angle S$



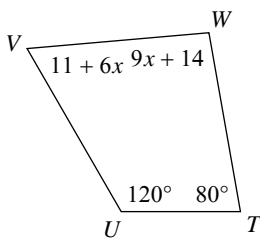
- A) 41° B) 65°
C) 50° D) 114°

22) $m\angle Q$



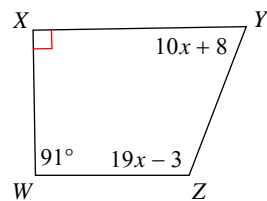
- A) 46° B) 100°
C) 96° D) 75°

23) $m\angle W$



- A) 115° B) 90°
C) 95° D) 73°

24) $m\angle Y$



- A) 70° B) 68°
C) 55° D) 45°



Answers to Assignment (ID: 4)

- 1) A
- 5) C
- 9) A
- 13) B
- 17) B
- 21) B

- 2) A
- 6) D
- 10) B
- 14) D
- 18) B
- 22) B

- 3) B
- 7) C
- 11) C
- 15) A
- 19) C
- 23) C

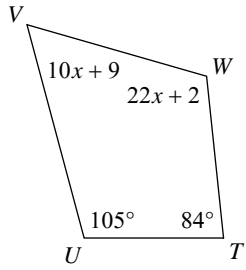
- 4) A
- 8) D
- 12) B
- 16) B
- 20) D
- 24) B



Assignment

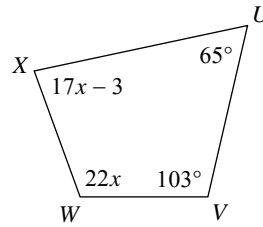
Find the measure of each angle indicated.

1) $m\angle V$



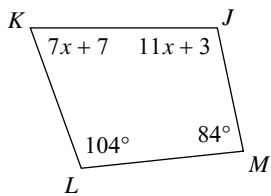
- A) 46°
- B) 50°
- C) 59°
- D) 40°

2) $m\angle X$



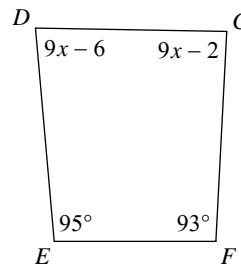
- A) 75°
- B) 84°
- C) 58°
- D) 82°

3) $m\angle J$



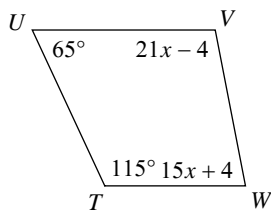
- A) 90°
- B) 102°
- C) 114°
- D) 50°

4) $m\angle D$



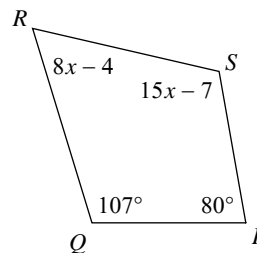
- A) 96°
- B) 35°
- C) 44°
- D) 84°

5) $m\angle W$



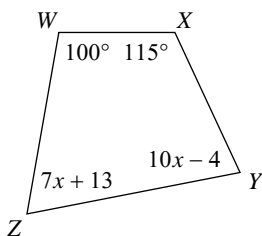
- A) 45°
- B) 55°
- C) 109°
- D) 79°

6) $m\angle R$



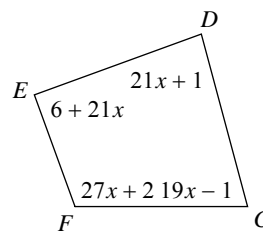
- A) 65°
- B) 60°
- C) 100°
- D) 55°

7) $m\angle Z$



- A) 69°
- B) 92°
- C) 40°
- D) 115°

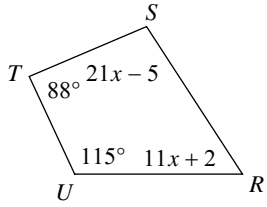
8) $m\angle C$



- A) 68°
- B) 35°
- C) 75°
- D) 105°

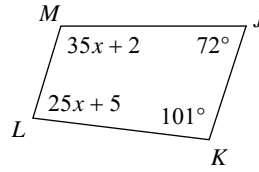


9) $m\angle S$



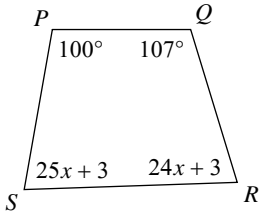
- A) 50° B) 100°
C) 34° D) 95°

10) $m\angle L$



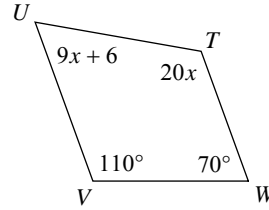
- A) 53° B) 80°
C) 37° D) 77°

11) $m\angle R$



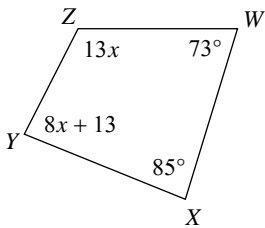
- A) 60° B) 75°
C) 103° D) 115°

12) $m\angle T$



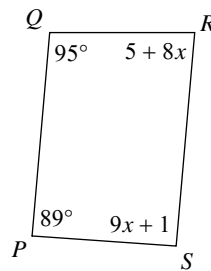
- A) 118° B) 50°
C) 120° D) 35°

13) $m\angle Z$



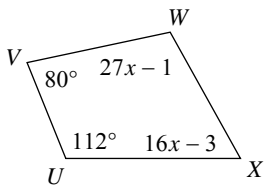
- A) 72° B) 117°
C) 55° D) 95°

14) $m\angle R$



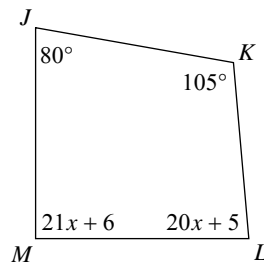
- A) 85° B) 105°
C) 120° D) 68°

15) $m\angle W$



- A) 74° B) 110°
C) 90° D) 107°

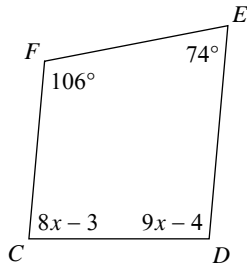
16) $m\angle M$



- A) 55° B) 41°
C) 90° D) 83°

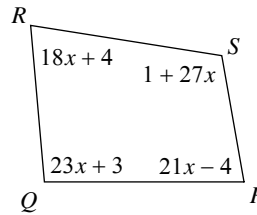


17) $m\angle D$



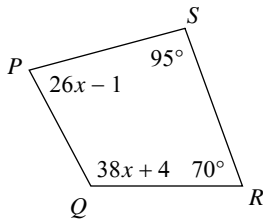
- A) 60° B) 40°
 C) 96° D) 95°

18) $m\angle Q$



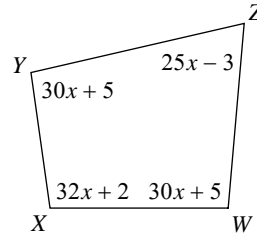
- A) 45° B) 95°
 C) 75° D) 120°

19) $m\angle Q$



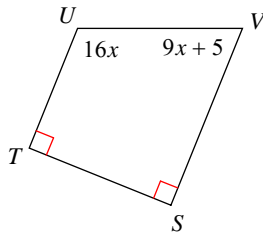
- A) 75° B) 105°
 C) 118° D) 40°

20) $m\angle W$



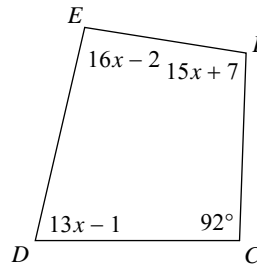
- A) 95° B) 85°
 C) 80° D) 105°

21) $m\angle U$



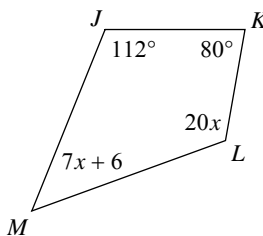
- A) 33° B) 60°
 C) 112° D) 120°

22) $m\angle D$



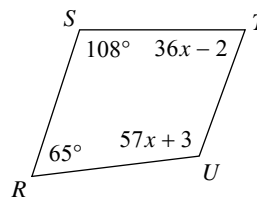
- A) 88° B) 77°
 C) 120° D) 65°

23) $m\angle M$



- A) 48° B) 104°
 C) 110° D) 95°

24) $m\angle T$



- A) 70° B) 30°
 C) 98° D) 105°



Answers to Assignment (ID: 5)

1) C
5) D
9) B
13) B
17) D
21) C

2) D
6) B
10) B
14) A
18) B
22) B

3) B
7) A
11) B
15) D
19) C
23) A

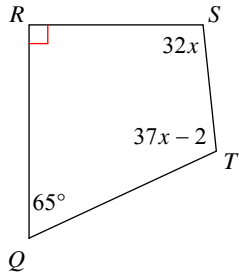
4) D
8) C
12) C
16) C
20) A
24) A



Assignment

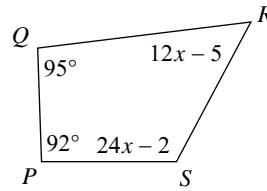
Find the measure of each angle indicated.

1) $m\angle T$



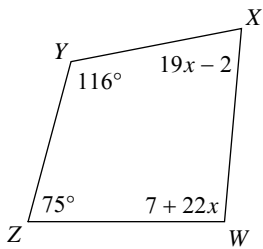
- A) 120°
- B) 44°
- C) 109°
- D) 40°

2) $m\angle S$



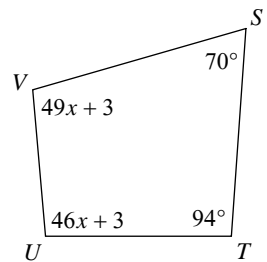
- A) 55°
- B) 118°
- C) 110°
- D) 82°

3) $m\angle W$



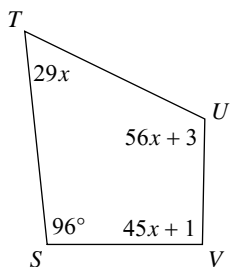
- A) 112°
- B) 95°
- C) 96°
- D) 45°

4) $m\angle U$



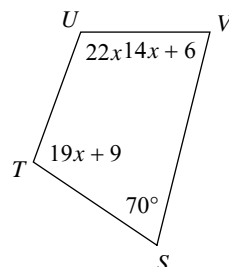
- A) 95°
- B) 72°
- C) 110°
- D) 54°

5) $m\angle T$



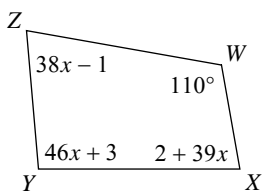
- A) 104°
- B) 58°
- C) 86°
- D) 35°

6) $m\angle T$



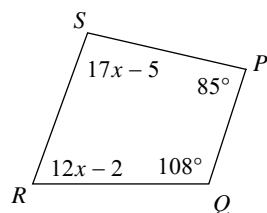
- A) 104°
- B) 85°
- C) 82°
- D) 84°

7) $m\angle X$



- A) 110°
- B) 80°
- C) 88°
- D) 46°

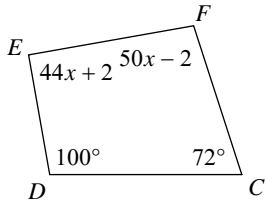
8) $m\angle R$



- A) 82°
- B) 75°
- C) 70°
- D) 68°

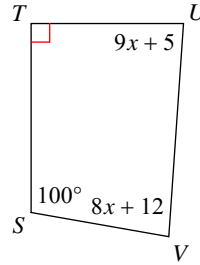


9) $m\angle E$



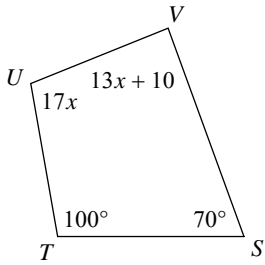
- A) 48° B) 120°
C) 60° D) 90°

10) $m\angle V$



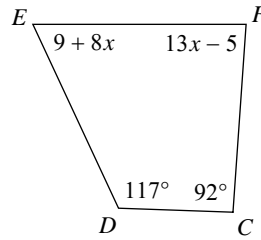
- A) 84° B) 80°
C) 55° D) 115°

11) $m\angle U$



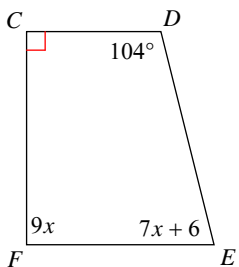
- A) 90° B) 102°
C) 85° D) 35°

12) $m\angle E$



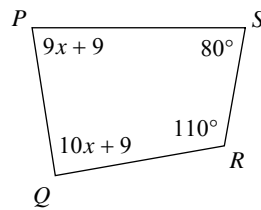
- A) 118° B) 80°
C) 113° D) 65°

13) $m\angle E$



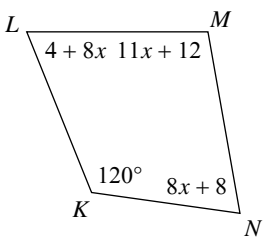
- A) 76° B) 75°
C) 98° D) 68°

14) $m\angle P$



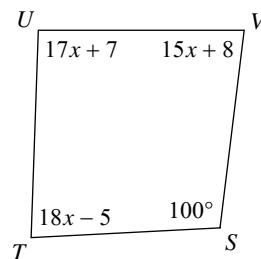
- A) 60° B) 81°
C) 50° D) 44°

15) $m\angle L$



- A) 112° B) 70°
C) 65° D) 68°

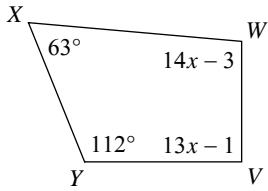
16) $m\angle V$



- A) 83° B) 100°
C) 55° D) 85°

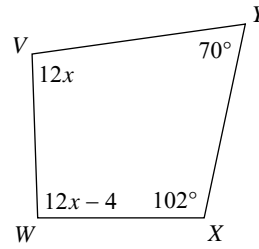


17) $m\angle W$



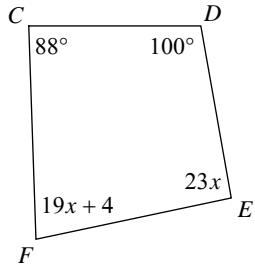
- A) 60° B) 35°
C) 64° D) 95°

18) $m\angle V$



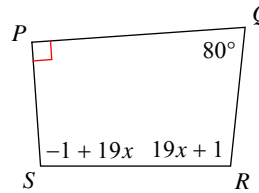
- A) 96° B) 115°
C) 120° D) 95°

19) $m\angle F$



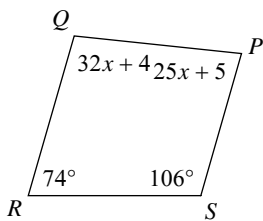
- A) 80° B) 90°
C) 65° D) 35°

20) $m\angle S$



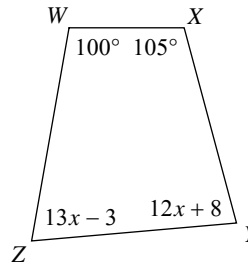
- A) 95° B) 59°
C) 94° D) 118°

21) $m\angle Q$



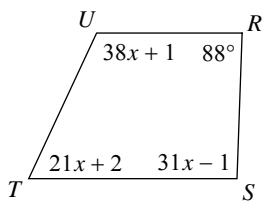
- A) 75° B) 100°
C) 86° D) 55°

22) $m\angle Z$



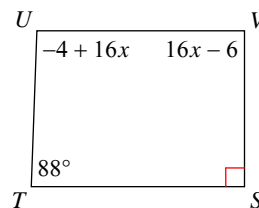
- A) 40° B) 30°
C) 75° D) 55°

23) $m\angle T$



- A) 117° B) 70°
C) 120° D) 65°

24) $m\angle U$



- A) 115° B) 116°
C) 92° D) 72°



Answers to Assignment (ID: 6)

- 1) C
- 5) B
- 9) D
- 13) A
- 17) D
- 21) B

- 2) B
- 6) A
- 10) A
- 14) B
- 18) A
- 22) C

- 3) B
- 7) B
- 11) B
- 15) D
- 19) A
- 23) D

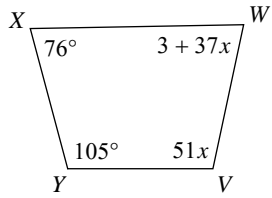
- 4) A
- 8) C
- 12) D
- 16) A
- 20) C
- 24) C



Assignment

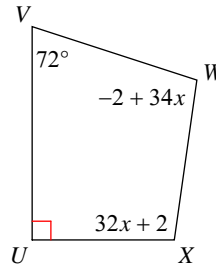
Find the measure of each angle indicated.

1) $m\angle V$



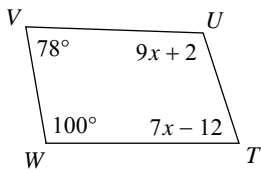
- A) 102°
- B) 93°
- C) 92°
- D) 104°

2) $m\angle W$



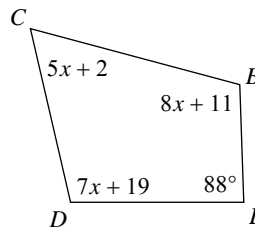
- A) 90°
- B) 100°
- C) 95°
- D) 40°

3) $m\angle U$



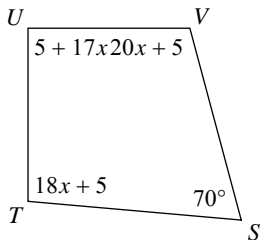
- A) 45°
- B) 40°
- C) 70°
- D) 110°

4) $m\angle D$



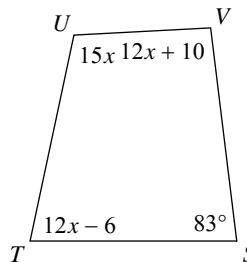
- A) 47°
- B) 103°
- C) 72°
- D) 105°

5) $m\angle V$



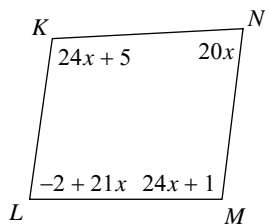
- A) 89°
- B) 40°
- C) 105°
- D) 100°

6) $m\angle V$



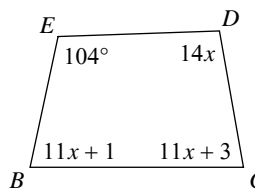
- A) 94°
- B) 100°
- C) 64°
- D) 115°

7) $m\angle K$



- A) 48°
- B) 114°
- C) 118°
- D) 101°

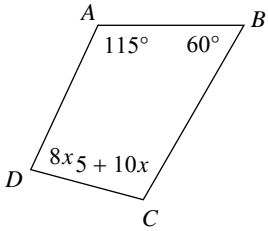
8) $m\angle B$



- A) 115°
- B) 75°
- C) 110°
- D) 78°

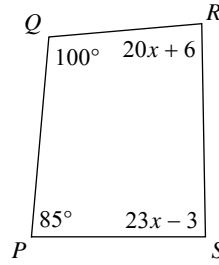


9) $m\angle D$



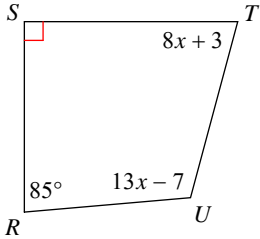
- A) 90° B) 80°
C) 82° D) 70°

10) $m\angle S$



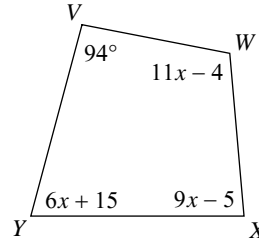
- A) 90° B) 95°
C) 89° D) 45°

11) $m\angle U$



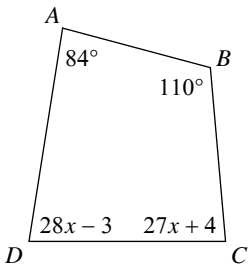
- A) 50° B) 72°
C) 94° D) 110°

12) $m\angle X$



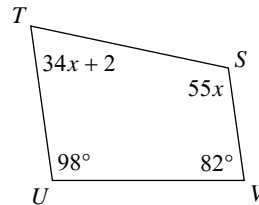
- A) 90° B) 85°
C) 120° D) 115°

13) $m\angle D$



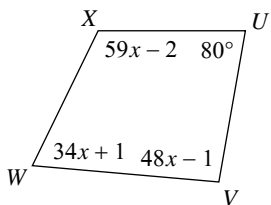
- A) 75° B) 101°
C) 37° D) 81°

14) $m\angle T$



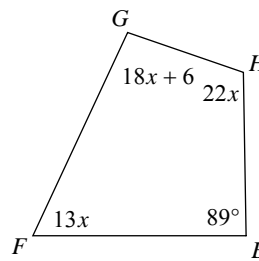
- A) 87° B) 30°
C) 70° D) 76°

15) $m\angle X$



- A) 60° B) 116°
C) 94° D) 54°

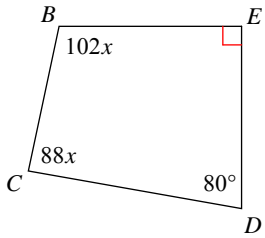
16) $m\angle G$



- A) 47° B) 96°
C) 107° D) 85°

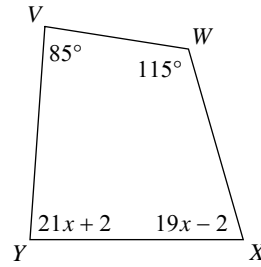


17) $m\angle B$



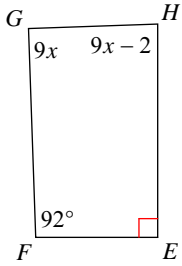
- A) 46° B) 35°
 C) 115° D) 102°

18) $m\angle X$



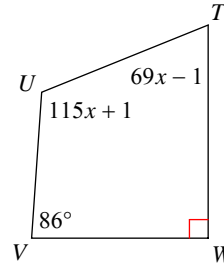
- A) 110° B) 74°
 C) 98° D) 120°

19) $m\angle H$



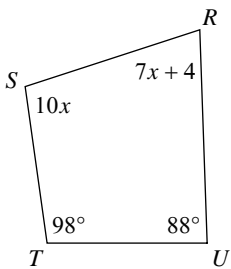
- A) 88° B) 55°
 C) 70° D) 35°

20) $m\angle T$



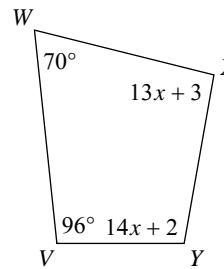
- A) 68° B) 50°
 C) 60° D) 76°

21) $m\angle R$



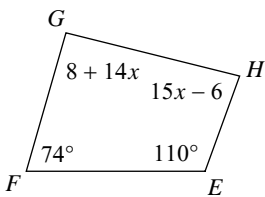
- A) 50° B) 120°
 C) 60° D) 74°

22) $m\angle X$



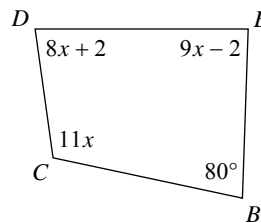
- A) 100° B) 38°
 C) 118° D) 94°

23) $m\angle H$



- A) 84° B) 32°
 C) 110° D) 100°

24) $m\angle C$



- A) 95° B) 110°
 C) 70° D) 33°



Answers to Assignment (ID: 7)

1) A
5) C
9) B
13) D
17) D
21) D

2) B
6) A
10) C
14) C
18) B
22) D

3) D
7) D
11) D
15) B
19) A
23) A

4) B
8) D
12) B
16) B
20) A
24) B



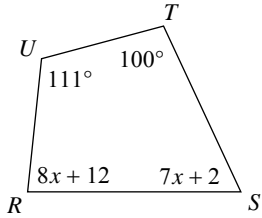
Assignment

Name _____

Date _____ Period _____

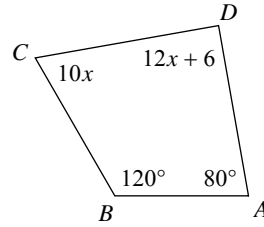
Find the measure of each angle indicated.

1) $m\angle R$



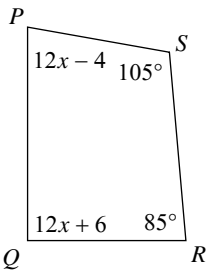
- A) 109°
- B) 84°
- C) 99°
- D) 90°

2) $m\angle C$



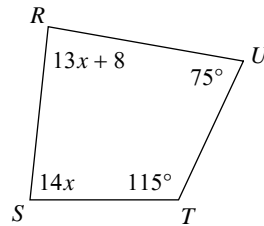
- A) 104°
- B) 70°
- C) 103°
- D) 110°

3) $m\angle Q$



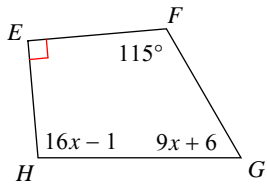
- A) 90°
- B) 114°
- C) 56°
- D) 115°

4) $m\angle S$



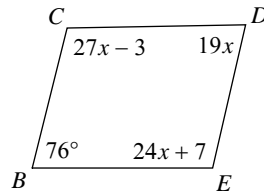
- A) 84°
- B) 48°
- C) 88°
- D) 114°

5) $m\angle H$



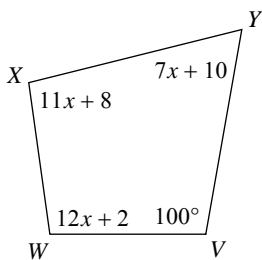
- A) 52°
- B) 95°
- C) 86°
- D) 50°

6) $m\angle E$



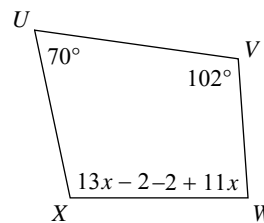
- A) 45°
- B) 98°
- C) 103°
- D) 80°

7) $m\angle W$



- A) 98°
- B) 50°
- C) 68°
- D) 85°

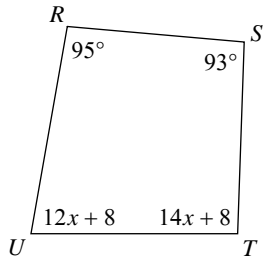
8) $m\angle W$



- A) 115°
- B) 50°
- C) 86°
- D) 116°

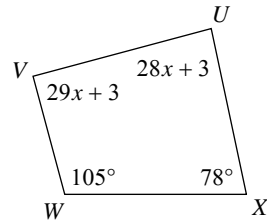


9) $m\angle T$



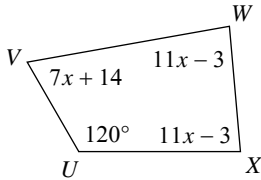
- A) 80° B) 92°
C) 75° D) 60°

10) $m\angle V$



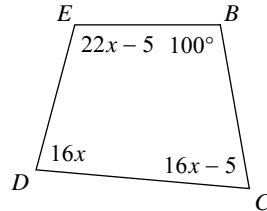
- A) 38° B) 106°
C) 90° D) 104°

11) $m\angle W$



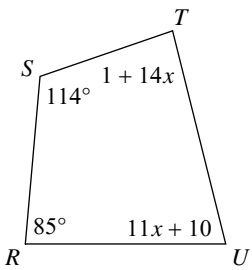
- A) 35° B) 75°
C) 86° D) 85°

12) $m\angle E$



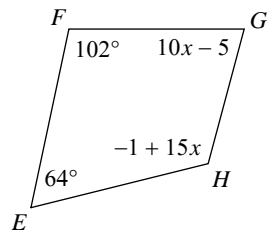
- A) 105° B) 65°
C) 90° D) 80°

13) $m\angle T$



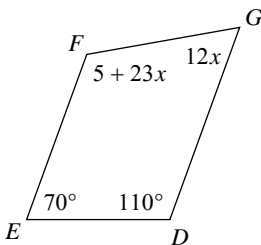
- A) 85° B) 50°
C) 34° D) 97°

14) $m\angle H$



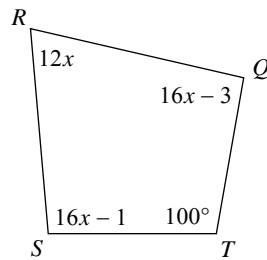
- A) 119° B) 80°
C) 45° D) 120°

15) $m\angle G$



- A) 80° B) 60°
C) 95° D) 56°

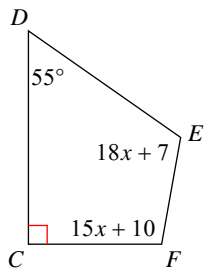
16) $m\angle R$



- A) 110° B) 53°
C) 72° D) 84°

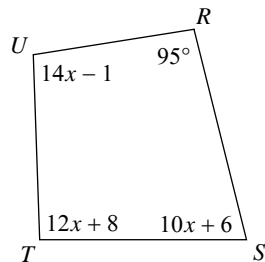


17) $m\angle F$



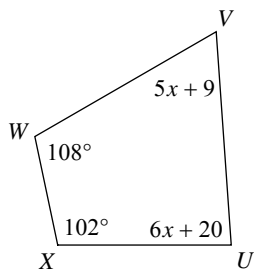
- A) 110° B) 112°
 C) 100° D) 35°

18) $m\angle S$



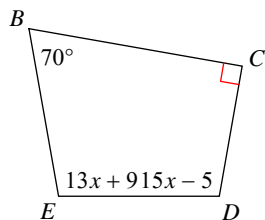
- A) 55° B) 105°
 C) 76° D) 96°

19) $m\angle V$



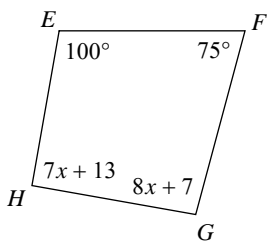
- A) 46° B) 64°
 C) 55° D) 35°

20) $m\angle D$



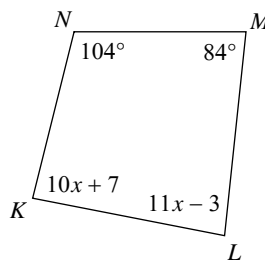
- A) 110° B) 95°
 C) 115° D) 100°

21) $m\angle G$



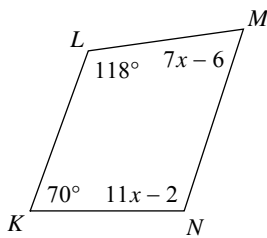
- A) 95° B) 80°
 C) 75° D) 70°

22) $m\angle L$



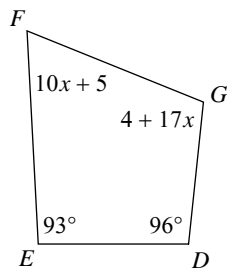
- A) 60° B) 62°
 C) 90° D) 85°

23) $m\angle M$



- A) 40° B) 38°
 C) 64° D) 70°

24) $m\angle F$



- A) 108° B) 115°
 C) 65° D) 90°



Answers to Assignment (ID: 8)

1) B
5) B
9) B
13) A
17) C
21) A

2) B
6) C
10) C
14) A
18) C
22) D

3) A
7) A
11) D
15) B
19) B
23) C

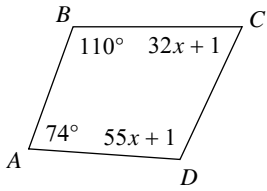
4) A
8) C
12) A
16) C
20) D
24) C



Assignment

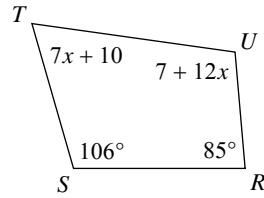
Find the measure of each angle indicated.

1) $m\angle D$



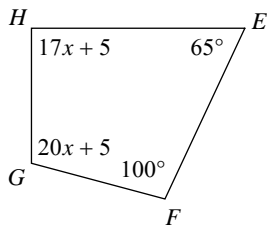
- A) 40°
- B) 120°
- C) 90°
- D) 111°

2) $m\angle T$



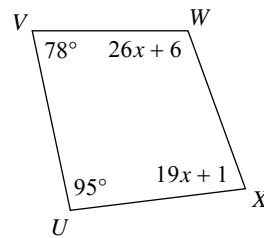
- A) 56°
- B) 66°
- C) 55°
- D) 35°

3) $m\angle H$



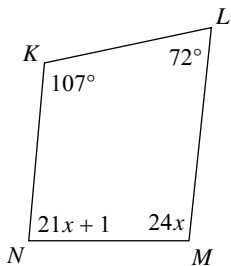
- A) 110°
- B) 40°
- C) 60°
- D) 90°

4) $m\angle W$



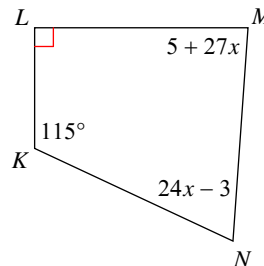
- A) 40°
- B) 110°
- C) 95°
- D) 70°

5) $m\angle N$



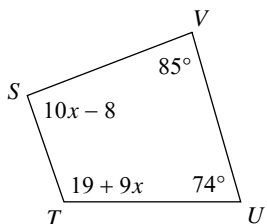
- A) 63°
- B) 85°
- C) 120°
- D) 70°

6) $m\angle M$



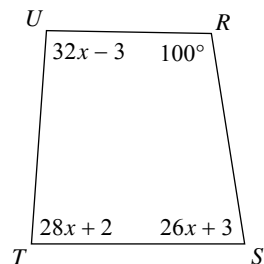
- A) 92°
- B) 35°
- C) 86°
- D) 110°

7) $m\angle S$



- A) 92°
- B) 60°
- C) 110°
- D) 114°

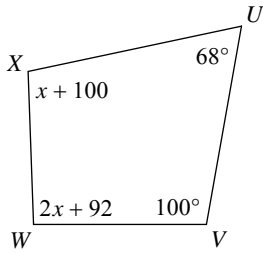
8) $m\angle U$



- A) 93°
- B) 72°
- C) 116°
- D) 100°

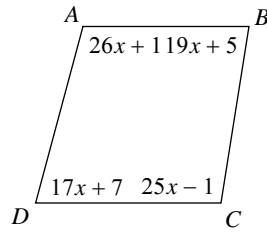


9) $m\angle W$



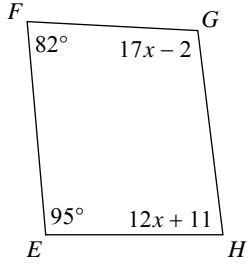
- A) 70° B) 92°
C) 110° D) 95°

10) $m\angle A$



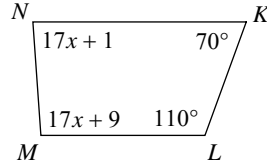
- A) 72° B) 65°
C) 105° D) 84°

11) $m\angle G$



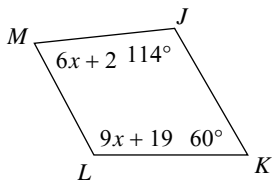
- A) 99° B) 100°
C) 65° D) 50°

12) $m\angle M$



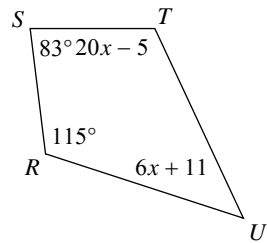
- A) 90° B) 42°
C) 106° D) 94°

13) $m\angle M$



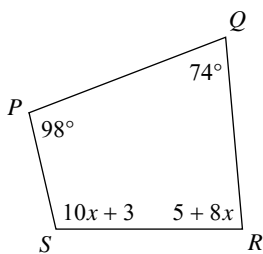
- A) 68° B) 55°
C) 70° D) 38°

14) $m\angle T$



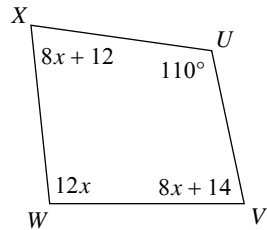
- A) 56° B) 70°
C) 52° D) 115°

15) $m\angle R$



- A) 55° B) 85°
C) 85° D) 115°

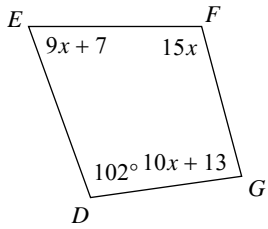
16) $m\angle W$



- A) 76° B) 50°
C) 96° D) 104°

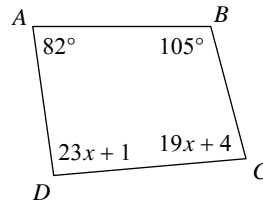


17) $m\angle E$



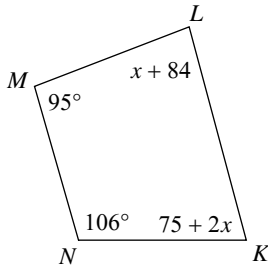
- A) 70° B) 105°
 C) 46° D) 120°

18) $m\angle C$



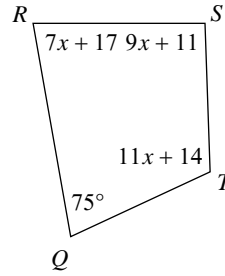
- A) 74° B) 80°
 C) 60° D) 80°

19) $m\angle K$



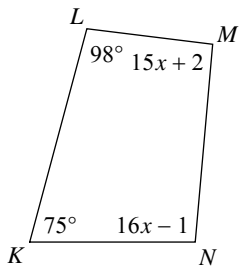
- A) 50° B) 55°
 C) 75° D) 60°

20) $m\angle R$



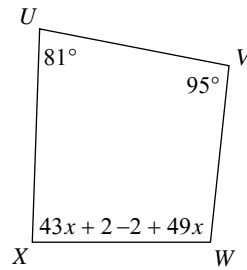
- A) 115° B) 85°
 C) 80° D) 95°

21) $m\angle M$



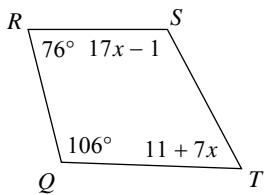
- A) 67° B) 103°
 C) 70° D) 92°

22) $m\angle X$



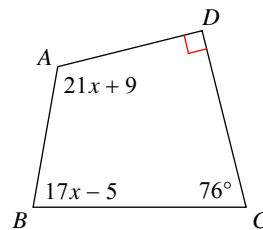
- A) 88° B) 35°
 C) 114° D) 40°

23) $m\angle S$



- A) 65° B) 105°
 C) 91° D) 118°

24) $m\angle B$



- A) 45° B) 100°
 C) 60° D) 80°



Answers to Assignment (ID: 9)

1) D
5) B
9) B
13) A
17) A
21) D

2) B
6) C
10) C
14) D
18) B
22) A

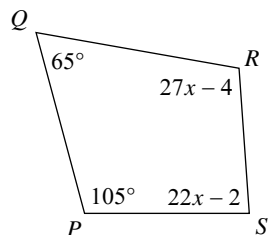
3) D
7) A
11) B
15) C
19) C
23) D

4) B
8) A
12) D
16) C
20) C
24) D

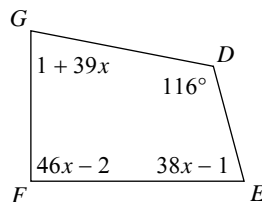


Assignment

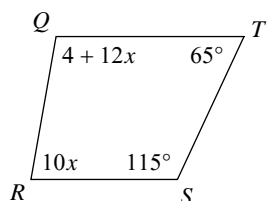
Find the measure of each angle indicated.

1) $m\angle S$ 

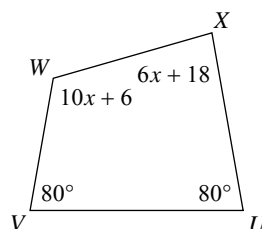
- A) 95° B) 58°
 C) 86° D) 94°

2) $m\angle F$ 

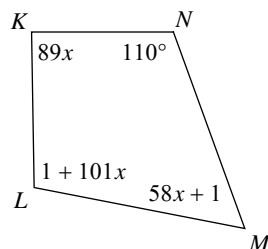
- A) 84° B) 45°
 C) 90° D) 70°

3) $m\angle Q$ 

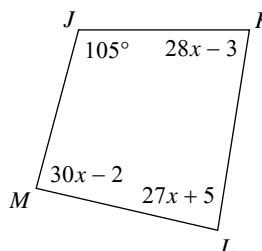
- A) 55° B) 85°
 C) 90° D) 100°

4) $m\angle W$ 

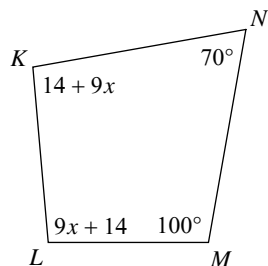
- A) 110° B) 33°
 C) 116° D) 100°

5) $m\angle L$ 

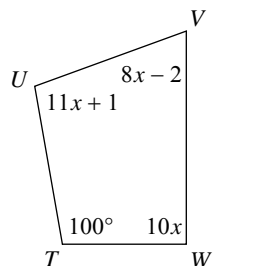
- A) 99° B) 102°
 C) 80° D) 98°

6) $m\angle K$ 

- A) 120° B) 48°
 C) 44° D) 81°

7) $m\angle L$ 

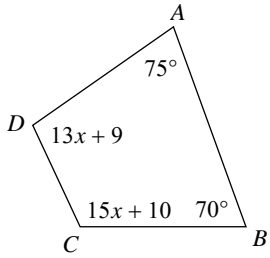
- A) 118° B) 95°
 C) 120° D) 74°

8) $m\angle U$ 

- A) 100° B) 60°
 C) 90° D) 30°

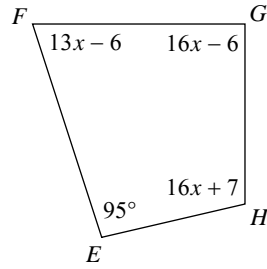


9) $m\angle D$



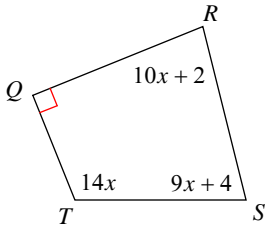
- A) 35°
- B) 100°
- C) 118°
- D) 105°

10) $m\angle F$



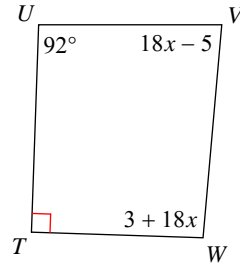
- A) 51°
- B) 72°
- C) 65°
- D) 53°

11) $m\angle T$



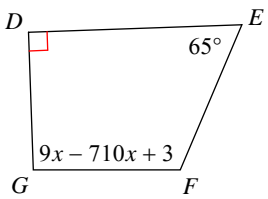
- A) 112°
- B) 74°
- C) 55°
- D) 54°

12) $m\angle V$



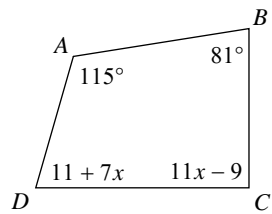
- A) 85°
- B) 46°
- C) 85°
- D) 30°

13) $m\angle G$



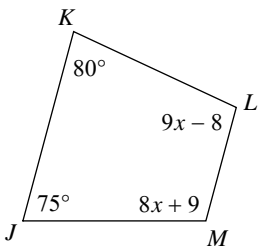
- A) 92°
- B) 120°
- C) 35°
- D) 70°

14) $m\angle D$



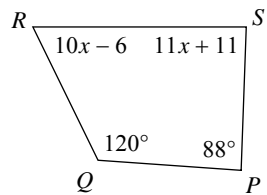
- A) 100°
- B) 44°
- C) 60°
- D) 74°

15) $m\angle L$



- A) 80°
- B) 55°
- C) 110°
- D) 100°

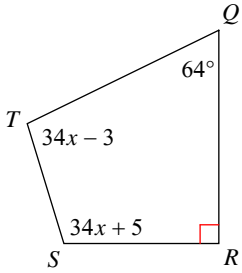
16) $m\angle R$



- A) 64°
- B) 105°
- C) 100°
- D) 46°

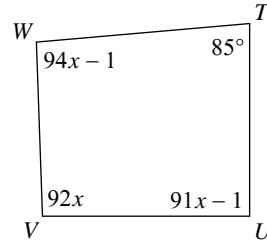


17) $m\angle S$



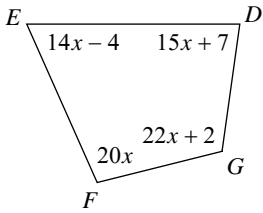
- A) 107° B) 105°
 C) 120° D) 36°

18) $m\angle W$



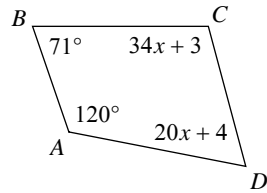
- A) 93° B) 70°
 C) 38° D) 35°

19) $m\angle G$



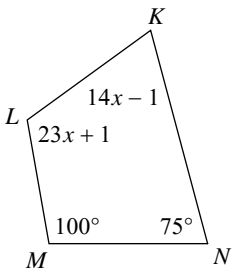
- A) 94° B) 64°
 C) 35° D) 112°

20) $m\angle C$



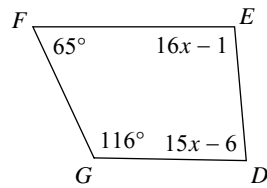
- A) 120° B) 105°
 C) 44° D) 30°

21) $m\angle L$



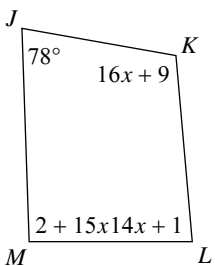
- A) 55° B) 116°
 C) 80° D) 70°

22) $m\angle E$



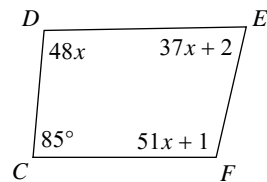
- A) 40° B) 95°
 C) 110° D) 90°

23) $m\angle M$



- A) 92° B) 66°
 C) 106° D) 37°

24) $m\angle F$



- A) 50° B) 38°
 C) 106° D) 103°



Answers to Assignment (ID: 10)

1) C
5) B
9) B
13) A
17) A
21) B

2) C
6) D
10) B
14) D
18) A
22) B

3) D
7) B
11) A
15) D
19) D
23) A

4) C
8) A
12) A
16) A
20) B
24) D

